




2. Notová osnova, husľový kľúč

Notová osnova má päť liniek a štyri medzery.



Na začiatku notovej osnovy píšeme **husľový kľúč**.

Precvič si písanie husľového kľúča.



3

4. Dĺžka nôt

 **Nota celá** sa počíta na štyri doby.

 **Nota polová** sa počíta na dve doby.

 **Nota štvrtová** sa počíta na jednu dobu.



5

3. Hudobná abeceda

Hudobnú abecedu tvoria tóny **c, d, e, f, g, a, h**.

Spoj mená nôt do hudobnej abecedy.



e

f

g

a

h



Doplň hudobnú abecedu:

c **d** _ _ _ _ _

4

5. Noty



Husľový kľúč

Noty píšeme na linky, do medzier, nad a pod notovú osnovu. Niekedy použijeme aj pomocné linky.



c¹ d¹ e¹ f¹ g¹ a¹ h¹ c²

Nota je značka pre tón.

6

7. Noty

Doplň názvy nôt.







Nota celá sa počíta na _____ doby.

Nota polová sa počíta na _____ doby.

Nota štvrtová sa počíta na _____ dobu.

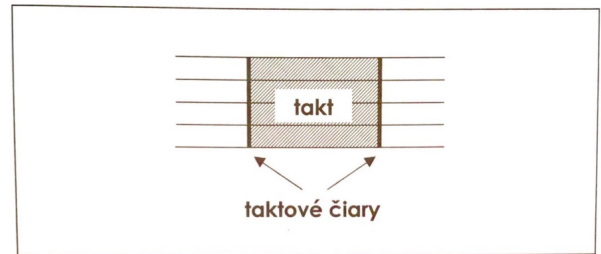


10. Pomlčka štvrtová, polová a celá

Pomlčka znamená, že určitý čas nehráme.

	Pomlčka štvrtová trvá jednu dobu.
	Pomlčka polová trvá dve doby.
	Pomlčka celá trvá štyri doby.


8. Takt



9. Takt dvojštvrtový




Doplň chýbajúce taktové čiary.




11. Pomlčky

Doplň názvy pomlčiek.




12. Takt dvojštvrtový

Zakrúžkuj takty, ktoré sú správne. Ostatné vyškrtni.



Vytlieskaj podľa nôt.



26. Noty

Doplň názvy nôh.





27. Hudobné pojmy

crescendo	-	zosilňovať
decrescendo	-	zoslabovať
ritardando	-	spomaľovať

20

30. Noty

Napíš noty.

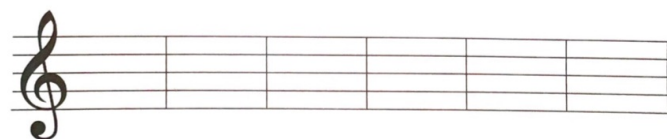


g¹ a¹ h¹ c² d² e²

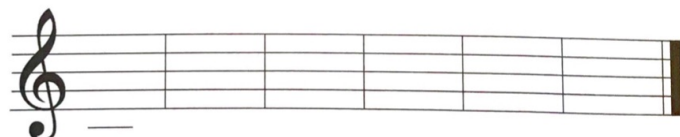


31. Noty

Napíš noty.



e¹ c² g¹ f¹ e² h¹

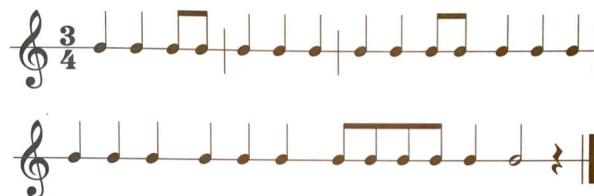


h d¹ a¹ g² d² f²

22


28. Takt trojštvrťový

Doplň chýbajúce taktové čiary.



29. Noty

Opíš noty: malé h, malé a, malé g.




21

32. Stupnica C dur

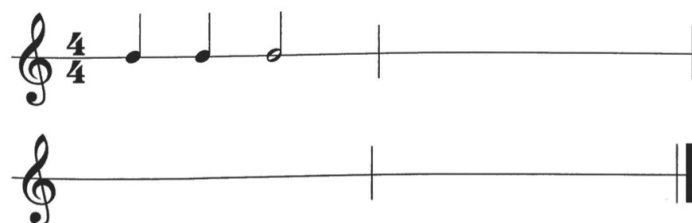
Durová stupnica je rad ôsmich tónov nasledujúcich za sebou. Prvý tón udáva názov stupnice.

Doplň chýbajúce noty v stupnici C dur.



33. Takt štvorštvrťový

Napíš noty a pomlčky tak, aby bol každý takt na štyri doby. Prvý takt je doplnený.



23

34. Noty



c² d² e² f² g² a² h² c³

Spoj čiarou noty a ich názvy.



c² d² e² f² g² a² h² c³

Doplň názvy nôt.



37. Noty s krížikmi

Krížik notu zvyšuje o pol tónu.

K názvu noty sa pridáva koncovka

-is

gis¹



Opíš krížik v medzere:



Opíš krížik na čiare:



cis¹ dis¹ eis¹ fis¹ gis¹ ais¹ his¹ cis²

35. Dychové plechové nástroje

Doplň názvy dychových plechových nástrojov.

36. Stupnica C dur, akord

Doplň stupnicu C dur.



Akord (trojzvuk) tvoria prvý, tretí a piaty stupeň stupnice.



Doplň názvy nôt.




__is¹ __is¹ __is¹ __is¹



__is¹ __is¹ __is¹ __is²

Krížik sa vždy píše pred notu (nikdy nie za ňu).



38. Stupnica G dur

Zakrúžkuj v stupnici G dur tón fis². Vymenuj tóny stupnice G dur.



39. Hudobné pojmy

legato - viazane

staccato - krátko

28

43. Noty s béčkami


Béčko notu znižuje o pol tónu.

K názvu noty sa pridáva koncovka

-es **ges¹**

Opíš béčko v medzere:

Opíš béčko na čiare:



ces¹ des¹ es¹ fes¹ ges¹ as¹ hes¹ ces²

30

40. Dychové drevené nástroje

Doplň názvy dychových drevených nástrojov.




41. Hudobné pojmy

Spoj čiarou, čo patrí k sebe.

- | | |
|-------------|------------|
| crescendo | spomaľovať |
| decrescendo | zosilňovať |
| ritardando | zoslabovať |

42. Takt štvorštvrtový

Doplň taktové čiary.




29

Doplň názvy nôt.

__es¹ __es¹ es¹ __es¹

__es¹ as¹ __es¹ __es²

Béčko sa vždy píše pred notu (nikdy nie za ňu).



31

44. Noty

Napíš noty.



Napíš noty.




47. Odrážka

Odrážka ruší platnosť krížikov a béčok.




Opíš odrážku v medzere:

Opíš odrážku na čiare:



Odrážka sa vždy píše pred notu.



45. Stupnica F dur

Zakrúžkuj v stupnici F dur tón hes¹. Vymenuj tóny stupnice F dur.



46. Hudobné pojmy

moderato – mierne

allegro – rýchlo



48. Poltón – celý tón

Poltón je najmenšia vzdialenosť medzi dvoma tónmi.


Celý tón je zložený z dvoch poltónov.

Prezri si obrázok klaviatúry.



c d e f g a h c

Biele klávesy tvoria tóny c, d, e, f, g, a, h, c. Medzi tónmi e-f a h-c sú prirodzené poltóny.



49. Noty


Spoj čiarou noty a ich názvy.




dis² fis² cis² gis² eis²

50. Stupnica, akord

Dopíš stupnicu C dur. Zakrúžkuj akord.



Dopíš chýbajúce tóny v stupnici G dur. Zakrúžkuj akord.



36

53. Stupnica D dur

Zakrúžkuj v stupnici D dur tóny fis¹ a cis². Vymenuj tóny stupnice D dur.



54. Posuvky

Krížik notu _____ o pol tónu.

Béčko notu _____ o pol tónu.

Odrážka ruší platnosť _____ a _____.

55. Noty

Spoj čiarou noty a ich názvy.



es² ces² ges² des² fes²

38

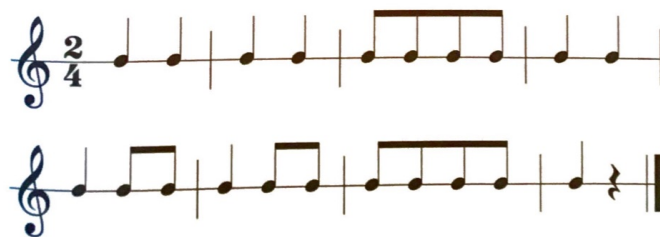
51. Bicie nástroje

Dopln názvy bicích nástrojov.



52. Takt dvojštvrtový

Vytlieskaj podľa nôh.




37

56. Čo patrí k sebe

Spoj čiarou, čo patrí k sebe.

MEZZOFORTE	viazane
LEGATO	slabo
FORTE	stredne silno
PIANO	zosilňovať
CRESCENDO	silno

57. Noty



39

58. Noty

Spoj čiarou noty a ich názvy.



cis¹ des¹ es¹ fis¹ gis¹ as¹ hes¹

59. Noty

Napíš noty.



es¹ cis¹ gis¹ fes¹ ais¹



fis¹ as¹ ges¹ dis¹ hes¹

40

62. Noty


Zakrúžkuj noty, ktoré sú správne.




ais¹ cis² fis¹ gis¹ dis²



hes¹ des² as¹ es¹ ges¹



Doplň názvy nôt.



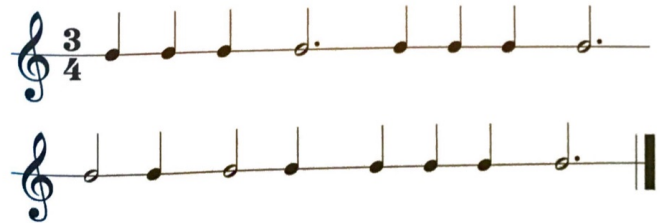
60. Polová nota s bodkou

Polovú notu s bodkou počítame na tri doby.



61. Takt trojštvrťový

Doplň taktové čiary.



41


63. Štvrtová nota s bodkou

Štvrtovú notu s bodkou počítame na jeden a pol doby.



64. Takt dvojštvrťový

Doplň taktové čiary.



43

65. Trojzvuk


Trojzvuk (akord) tvoria prvý, _____ a _____ stupeň stupnice.

Zakrúžkuj trojzvuk C dur, G dur, D dur, F dur.




66. Noty

basový _____



e¹ d¹ c¹ h a




g f e d c

69. Áno – nie

Ktoré vety sú správne? Doplň ÁNO alebo NIE.

- Husle majú štyri struny. _____
- Forte znamená stredne silno. _____
- Trúbka je dychový nástroj. _____
- Crescendo znamená zosilňovať. _____
- Béčko notu zvyšuje o pol tónu. _____
- Piano znamená slabo. _____
- Gitara je strunový brnkací nástroj. _____
- Flauta je dychový nástroj. _____
- Legato znamená spomaľovať. _____
- Repetícia znamená opakovanie. _____



Doplň hudobné výrazy.

- legato _____
- staccato _____
- crescendo _____
- decrescendo _____
- moderato _____
- allegro _____
- ritardando _____

68. Hudobné pojmy



Repetícia znamená opakovanie časti piesne (skladby).



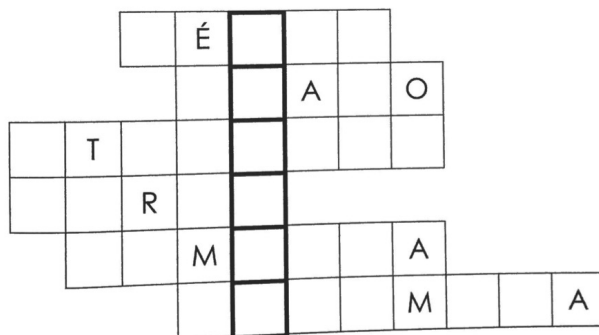
Fermáta (korunka) primerané predĺženie tónu.

70. Krížovka

Spoj čiarou, čo patrí k sebe.

- | | |
|------------------------------|----------|
| označenie dynamiky (slabo) | FORTE |
| rad ôsmich tónov je | PIANO |
| označenie dynamiky (silno) | DYNAMIKA |
| posuvka, ktorá znižuje notu | STUPNICA |
| ticho v hudbe, nástroj nehrá | BÉČKO |
| skladbu hráme rôznou silou | POMLČKA |

Doplň výrazy z predchádzajúcej úlohy do krížovky. Tajničku tvoria zvýraznené políčka.



Tajnička:

_____ patria do skupiny bicích nástrojov.